



MIĘDZYSZKOLNY KONKURS
WIEDZY ZINTEGROWANEJ „JUŻ TO WIEM”
DLA KLAS TRZECICH
2013

JUŻ TO WIEM

Imię i nazwisko ucznia:

Numer szkoły:

**VII EDYCJA
MIĘDZYSZKOLNEGO KONKURSU
WIEDZY ZINTEGROWANEJ „JUŻ TO WIEM”
DLA KLAS TRZECICH**

HASŁO KONKURSU:

„Moja szkoła to bezpieczne miejsce do nauki i wypoczynku”

Dyktando

<i>pkt</i>

.....

.....

.....

.....

.....

.....

.....

.....

.....

.....

.....

.....

.....

.....

.....

.....

.....

.....

.....

.....

.....

.....



Imię i nazwisko ucznia:

Numer szkoły:

DOBRE RADY DLA CIEBIE!!!

Uważnie czytaj polecenia.

Dokładnie i czytelnie zapisuj odpowiedzi.

Jeśli nie potrafisz rozwiązać któregoś zadania, to przejdź do następnego.

Gdy będziesz miał czas, spróbuj rozwiązać je jeszcze raz.

Pracuj spokojnie, uważnie i samodzielnie.

POWODZENIA!

Zadanie 1

Przeczytaj uważnie tekst i odpowiedz na pytania.

Tradycyjnie na początku czerwca odbędzie się w naszej szkole piknik rodzinny, na który zaprosimy wszystkich uczniów wraz z rodzicami.

Przewidzieliśmy wiele atrakcji. Przede wszystkim utalentowani uczniowie będą mieli możliwość zaprezentowania swoich muzycznych, tanecznych, plastycznych i sportowych umiejętności.

Przybędzie jednostka Straży Pożarnej, która zapozna zgromadzonych z nowoczesnym sprzętem do ratownictwa. Zobaczymy pokaz tresury psów policyjnych. Policjanci zapoznają nas także z zasadami właściwego zachowania się w kontaktach z psami.

Głównym celem imprezy będzie promocja zdrowia i bezpiecznego zachowania się w szkole i w drodze do niej, podczas przerw i na boisku.

Oczywiście będzie można skorzystać z bufetu obficie zaopatrzonego w ciasta, lody, kielbaski i różne pyszności.

Mamy nadzieję, że dopisze pogoda i dobry nastrój.

Kto będzie prezentował swoje talenty?

pkt

.....
.....

Co zaprezentuje Straż Pożarna?

.....
.....

Z jakimi zasadami zapoznają nas policjanci?

.....
.....

Co będzie głównym celem pikniku?

.....
.....



Zadanie 2

Uzupełnij tabelę wyrazami z pierwszych trzech zdań tekstu zadania 1
(po 2 przykłady)

czasowniki	rzeczowniki	przymiotniki
.....
.....

pkt

Zadanie 3

Zredaguj zaproszenie dla swoich przyjaciół na imprezę, o której informuje poniższy plakat.

pkt

.....

.....

.....

.....

.....

.....

.....

.....

.....

.....

Zadanie 4

Napisz po 3 wyrazy należące do rodziny wyrazów:

- bezpieczeństwo:.....
- zabawa:.....

pkt



Zadanie 5

Podane niżej wypowiedzenia zamień na zdania.

- Nasza szkoła to miejsce wielu ciekawych zajęć.

.....

- Nasza pani to mądra i sprawiedliwa osoba.

pkt

Zadanie 6

Napisz przymiotniki w stopniu równym, wyższym i najwyższym.

stopień równy

stopień wyższy

stopień najwyższy

pkt

ciekawy

.....

.....

.....

wiekszy

.....

.....

.....

najlepsza

Zadanie 7

Wpisz numery alarmowe.

Pogotowie
Ratunkowe

Straż Pożarna

Policja

europejski numer alarmowy

pkt

Zadanie 8

Chcesz wezwać karetkę pogotowia. Napisz jakie informacje podasz dyspozytorowi.

1.

2.

3.

4.

pkt



Zadanie 9

Wkrótce wakacje. Uczniowie wyjadą na zasłużony wypoczynek.

Czy wiesz jak bezpiecznie spędzić wakacje?

Napisz 4 hasła o bezpiecznym wypoczynku w lesie.

pkt

1.

2.

3.

4.

Zadanie 10

Poruszaj się zgodnie z kierunkami świata i odczytaj hasło.

start →

!	B	X	I	N	A	Ó
Ł	E	S	Z	Z	V	Z
P	U	Ł	E	M	I	Q
A	Ż	B	G	A	A	K
Z	E	R	P	J	J	Y
A	L	!	C	O	E	?

- →2 pola na wschód
- 4 pola na południe
- 1 pole na zachód
- 2 pola na północ
- 5 pól na wschód
- 3 pola na południe
- 2 pola na zachód
- 4 pola na północ

- 1 pole na północny – wschód
- 3 pola na południe
- 2 pola na północny – zachód
- 4 pola na wschód
- 2 pola na południe
- 2 pola na południowy – zachód
- 4 pola na północny zachód
- 2 pola południe
- 2 pola na południowy wschód

hasło:

pkt



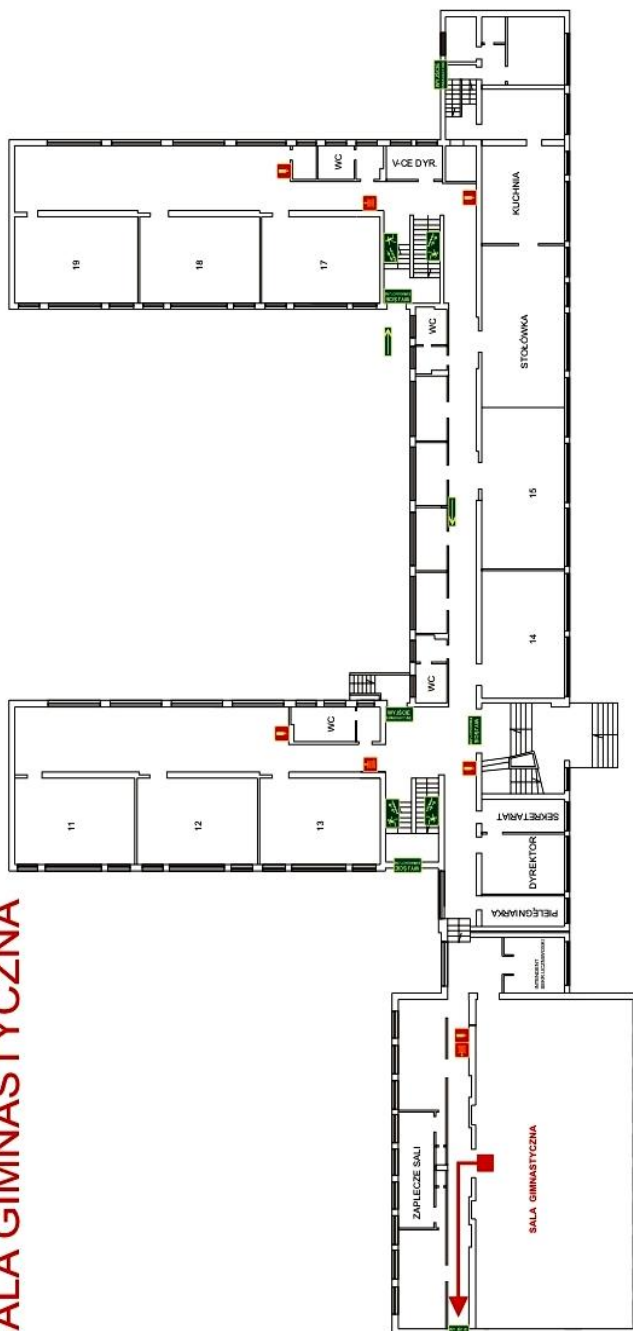
MIEDZYSZKOLNY KONKURS
WIEDZY ZINTEGROWANEJ „JUŻ TO WIEM”
DLA KLAS TRZECICH
2013

JUŻ TO WIEM

Zadanie 11

Zaznacz strzałkami bezpieczną i najkrótszą drogę ewakuacji z sali, w której znajdujesz się.

**DROGA EWAKUACJI
SALA GIMNASTYCZNA**



Szkoła Podstawowa nr 84 ul. Radzyńska 227; 03-611 Warszawa	
OCHRONA PRZECIWPÓŻAROWA	
INSTRUKCJA BEZPIECZEŃSTWA POŻAROWEGO	
Poziom parteru	
Tytuł: "JUŻ TO WIEM" II	
Wydanie: 2013r.	
Bydgoszcz, 2013r.	
02	

pkt



Zadanie 12

Otocz pętlą właściwą odpowiedź, który ze znaków informuje o przejeździe dla rowerzystów:



pkt

Zadanie 13

Dziecko poruszające się po drodze po zmierzchu poza obszarem zabudowanym, jest obowiązane używać elementów odblaskowych w sposób widoczny dla innych uczestników ruchu. Przepis ten dotyczy dzieci w wieku do lat:

- a) 10
- b) 13
- c) 15

pkt

Zadanie 14

Podane długości zapisz w kolejności od największej do najmniejszej:

100mm 9cm 6cm 39mm 1m 9cm

pkt

Zadanie 15

W puste miejsca wpisz odpowiednie liczby.

- 125min. to 2godz. i 5min.
- 195min. togodz.min.
- 180s to min.
- 4 doby togodz.
- 12 tygodni todni
- 2 i pół kg todag
- 1000gr tozł ...gr

pkt



Zadanie 16

Jeśli pewną liczbę pomnożę przez 3, otrzymany wynik podzielę przez 9, następnie dodam 17 to otrzymam liczbę 22. O jakiej liczbie pomyślałam na początku?

- a) 11
- b) 12
- c) 15

pkt

Zadanie 17

Oblicz obwód prostokąta, którego jeden bok wynosi 14 cm, a drugi jest o 5 cm krótszy.

- a) 38cm
- b) 47cm
- c) 46cm

pkt

Zadanie 18

Ile szklanek o pojemności ćwierć litra potrzebne jest do przelania wody z butelki o pojemności 2 i pół litra?

- a) 12
- b) 10
- c) 9

pkt

Zadanie 19

Ile razy liczba 360 jest większa od liczby 40?

- a) 7
- b) 8
- c) 9

pkt

Zadanie 20

Film „Krudowie” rozpoczął się o godz. 16.00 i trwał 10 kwadransów. O której godzinie zakończył się ten film?

- a) 18.30
- b) 18.15
- c) 17.45

pkt



Zadanie 21

Odrzutowiec lecący ze stałą prędkością pokonuje 960 km w ciągu jednej godziny. Jaką odległość pokonuje w ciągu 5 minut?

pkt

Odpowiedź:

Zadanie 22

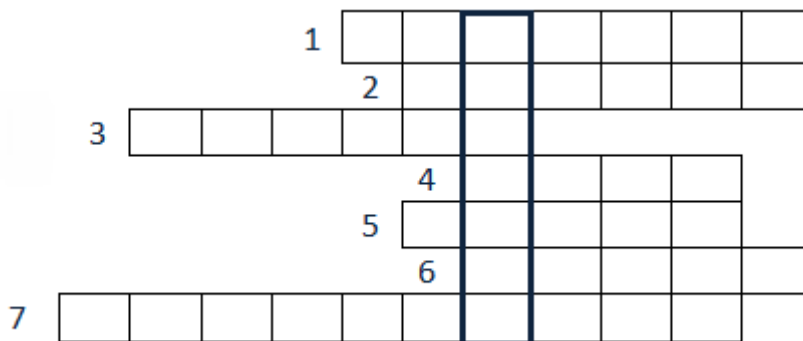
W poniedziałek do egzaminu na Kartę Rowerową przystąpiło 15 dziewczynek i 3 razy więcej chłopców, a we wtorek dziewczynek przystąpiło o 9 więcej niż w poniedziałek, a chłopców 5 razy mniej niż w poniedziałek. Ilu uczniów łącznie przystąpiło do egzaminu?

pkt

Odpowiedź:

Zadanie 23

Rozwiąż krzyżówkę i odczytaj hasło.



pkt

hasło:

1. Twoja podobizna utrwalona przez malarza.
2. Kreska, która wyznacza określony kształt.
3. Artysta, który maluje.
4. Niezbędna do malowania akwarelami.
5. Służą do malowania.
6. Służy do ścierania ołówka.
7. Rysunek w książce.



Zadanie 24

Rytm to:

- układ wybranych elementów i rozmieszczenie ich na płaszczyźnie
- regularne powtarzanie się określonych elementów w odstępach czasowych lub przestrzennych
- zawartość konturu


pkt

Zadanie 25

Otocz pętlami muzyczne pauzy.



pkt



Zadanie 26

Zaznacz polskie tańce.

- polka
- kujawiak
- menuet
- polonez
- kankan
- mazur
- krakowiak

pkt



MIĘDZYSZKOLNY KONKURS
WIEDZY ZINTEGROWANEJ „JUŻ TO WIEM”
DLA KLAS TRZECICH
2013

JUŻ TO WIEM

Brudnopis