



MIEDZYSZKOLNY KONKURS
WIEDZY ZINTEGROWANEJ „JUŻ TO WIEM”
DLA KLAS TRZECICH
2015

JUŻ TO WIEM

Imię i nazwisko ucznia:

Numer szkoły:

**IX EDYCJA
MIEDZYSZKOLNEGO KONKURSU
WIEDZY ZINTEGROWANEJ „JUŻ TO WIEM”
DLA KLAS TRZECICH**

HASŁO KONKURSU:

„Bezpieczna szkoła miejsce każdego z nas”

Przed Tobą zestaw ciekawych zadań. Uważnie czytaj wszystkie polecenia. Zadania możesz rozwiązywać w dowolnej kolejności. Nie martw się, jeśli nie potrafisz od razu rozwiązać któregoś z nich. Przejdź do następnego. Do problemowego polecenia wrócisz później.

Życzymy powodzenia

1. Przeczytaj uważnie tekst, a następnie zaznacz krzyżykiem poprawne odpowiedzi.

Wrocław, 21 maja 2015r.

Witajcie dzieciaki!

Nazywam się Kubuś. Jestem Waszym rówieśnikiem.

Lubię pływać w basenie, jeść lody, czytać książki i opowiadać ciekawe historie. Mam wielu przyjaciół, ale to dlatego, że nauczyłem się właściwie postępować. Przez ostatni rok nie zrobiłem nikomu nic przykrego ani bolesnego. A wcześniej? Prawdę mówiąc różnie bywało. Obecnie, podobnie jak Wy, jestem uczniem klasy trzeciej i powoli uczę się, jak wygląda życie w szkole. Wiele zrozumiałem na własnych błędach. Pamiętajcie, musicie zrobić wszystko, abyście czuli się w szkole naprawdę dobrze i bezpiecznie. Należy o tym pamiętać w różnych miejscach: w klasie, na korytarzu, w świetlicy, na boisku, na wycieczce. Hamujcie Wasze negatywne emocje i przykre dla innych żarty.

Pozdrawiam serdecznie.

Wasz przyjaciel Kubuś

- **Co lubi robić Kubuś?**
 - a. pływać w basenie, czytać książki, rysować,
 - b. czytać książki, jeść lody, pływać w jeziorze,
 - c. opowiadać historie, czytać książki, pływać w basenie

Szkoła Podstawowa nr 84
03-611 Warszawa
ul. Radzymińska 227



MIEDZYSZKOLNY KONKURS
WIEDZY ZINTEGROWANEJ „JUŻ TO WIEM”
DLA KLAS TRZECICH
2015

JUŻ TO WIEM

- Dlaczego Kubuś ma wielu przyjaciół?
 - a. częstował wszystkich cukierkami
 - b. nauczył się właściwie postępować
 - c. przez ostatni rok zaczepiał inne dzieci
- Jak musimy czuć się w szkole?
 - a. dobrze i wygodnie
 - b. dobrze i miło
 - c. dobrze i bezpiecznie
- Gdzie mieszka Kubuś?
 - a. w Warszawie
 - b. we Wrocławiu
 - c. w Lublinie
- Tekst z polecenia pierwszego ma formę:
 - a. opowiadania
 - b. listu
 - c. opisu

2. Uzupełnij tabelę wyrazami z podkreślonych zdań tekstu z zadania 1 (podaj po dwa przykłady).

Rzeczowniki	Przymiotniki	Czasowniki

3. Określ osobę, liczbę i czas podanych czasowników.

Czasownik	Osoba	Liczba	Czas
<i>hamujemy</i>			
<i>zrozumiałem</i>			
<i>nauczą się</i>			



MIEDZYSZKOLNY KONKURS
WIEDZY ZINTEGROWANEJ „JUŻ TO WIEM”
DLA KLAS TRZECICH
2015

JUŻ TO WIEM

4. Podane niżej wypowiedzenia zamień na zdania.

- Szkoła to bezpieczne miejsce każdego z nas.

- Podczas przerwy trzeba przestrzegać zasad bezpieczeństwa.

5. Otocz pętlą rodzinę wyrazów.

klasami	szkoła	boisko
klasie	szkolny	boisku
klasy	szkolić	boiskiem

6. Uzupełnij przymiotniki w odpowiednim stopniu.

<u>Stopień równy</u>	<u>Stopień wyższy</u>	<u>Stopień najwyższy</u>
.....	gorszy
drewniany
pracowity

7. Mając na względzie bezpieczeństwo dzieci szkoła organizuje spotkanie z przedstawicielem Straży Pożarnej. Zredaguj zaproszenie dla uczniów.



MIEDZYSZKOLNY KONKURS
WIEDZY ZINTEGROWANEJ „JUŻ TO WIEM”
DLA KLAS TRZECICH
2015





JUŻ TO WIEM

8. Jak bezpiecznie się zachowywać, aby nie zrobić krzywdy sobie i innym?
Przyporządkuj i połącz właściwą cechę z zachowaniem.

Zachowanie	Cecha
1. Uważam, aby nie zrobić krzywdy sobie i innym, zapobiegam wypadkom.	A. Jestem ODWAŻNY.
2. Zanim coś zrobię, staram się przewidzieć, jakie to przyniesie skutki.	B. Jestem MĄDRY I ROZSĄDNY.
3. Mam odwagę przyznać się, jeśli zrobię coś niewłaściwego.	C. Jestem ZAPOBIEGLIWY.
4. Pomagam dzieciom nauczyć się zachowywać bezpiecznie.	D. Jestem POMOCNY.
5. Zmieniam swoje zachowanie, jeśli jest niewłaściwe.	E. Jestem PRZEWIDUJĄCY.

1	2	3	4	5

9. Z której książki należy skorzystać planując trasę wycieczki rowerowej. Otocz pętlą poprawną odpowiedź.

 <p><i>ROWER</i> Katalog rowerów</p>	 <p><i>ROWER</i> Historia kolarstwa</p>	 <p><i>ROWER</i> Rowerowe wyprawy</p>	 <p><i>ROWER</i> Naprawa i konserwacja</p>
---	--	--	---

A.

B.

C.

D.



MIEDZYSZKOLNY KONKURS
WIEDZY ZINTEGROWANEJ „JUŻ TO WIEM”
DLA KLAS TRZECICH
2015

JUŻ TO WIEM

10. Uzupełnij brakujące określenia.

Klasa trzecia udała się na wycieczkę do dawnej stolicy Polski-, gdzie podziwiała zabytkowe Sukiennice.

Podczas spaceru po mieście mijają znaki drogowe:



Te znaki należą do znaków

Następnie w uczniowie zachwycali się Kaplicą św. Kingi. Kolejnym
(nazwa miasta)





etapem było - zimowa stolica Polski.
(nazwa miasta)

W drodze powrotnej do domu zatrzymali się na leśnym parkingu. Oglądali dorodne jagody, które znajdują się w i jałowce, które należą do
(warstwa lasu) (warstwa lasu)

Z zapartym tchem wsłuchiwali się w odgłosy dziecięcia, mieszkańca
(warstwa lasu)

11. Na drodze szybkiego ruchu obowiązuje zakaz poruszania się rowerem.

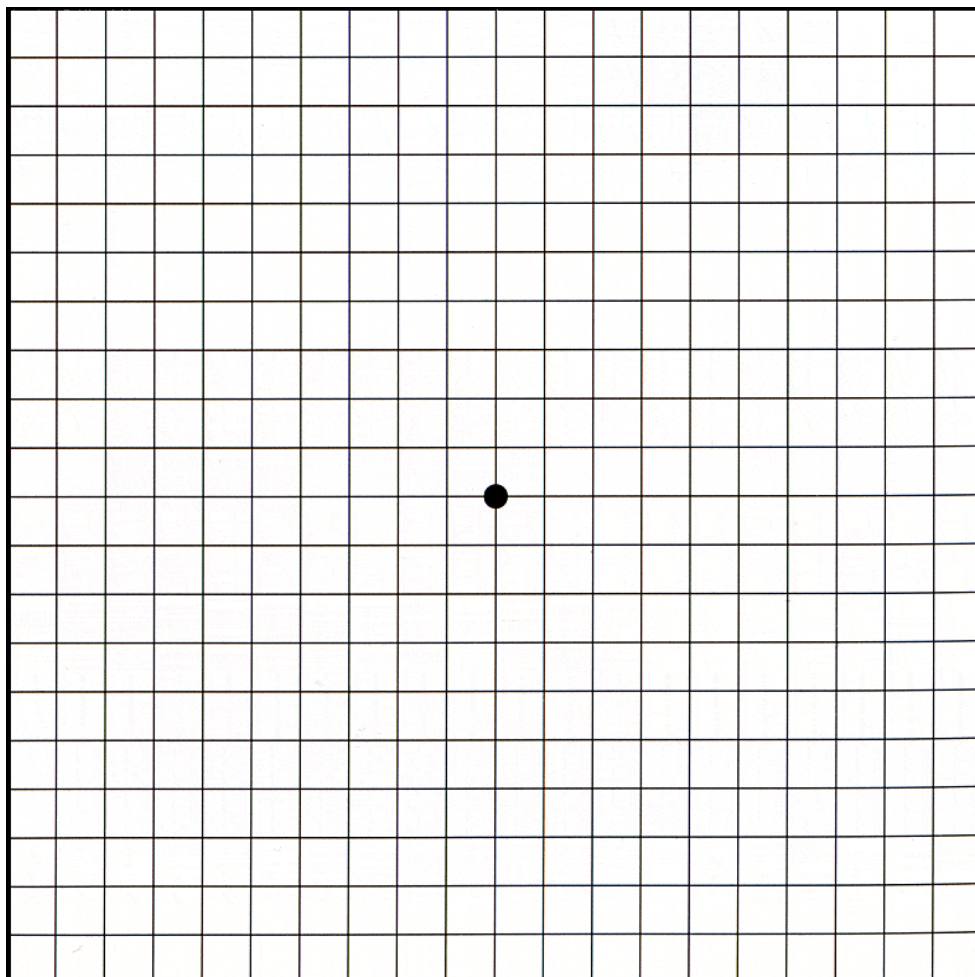
Który znak ustawiono przed wjazdem na tę drogę. Otocz kółkiem A, B, C lub D.

A. 	B. 
C. 	D. 



12. Poruszaj się zgodnie z kierunkami świata. Rozpocznij wędrówkę od czarnej kropki umieszczonej na środku kratkowanej strony.

- ✓ 4 pola na południe,
- ✓ 4 pola na północny- zachód,
- ✓ 4 pola na północny- wschód,
- ✓ 4 pola na południowy- wschód,
- ✓ 4 pola na południowy- zachód,
- ✓ 1 pole na północ,
- ✓ 3 pola na północny- zachód,
- ✓ 3 pola na północny- wschód,
- ✓ 3 pola na południowy- wschód,
- ✓ 3 pola na południowy- zachód,
- ✓ 5 pól na południe,
- ✓ 1 pole na południowy- zachód,
- ✓ 2 pola na wschód,
- ✓ 1 pole na północny- zachód

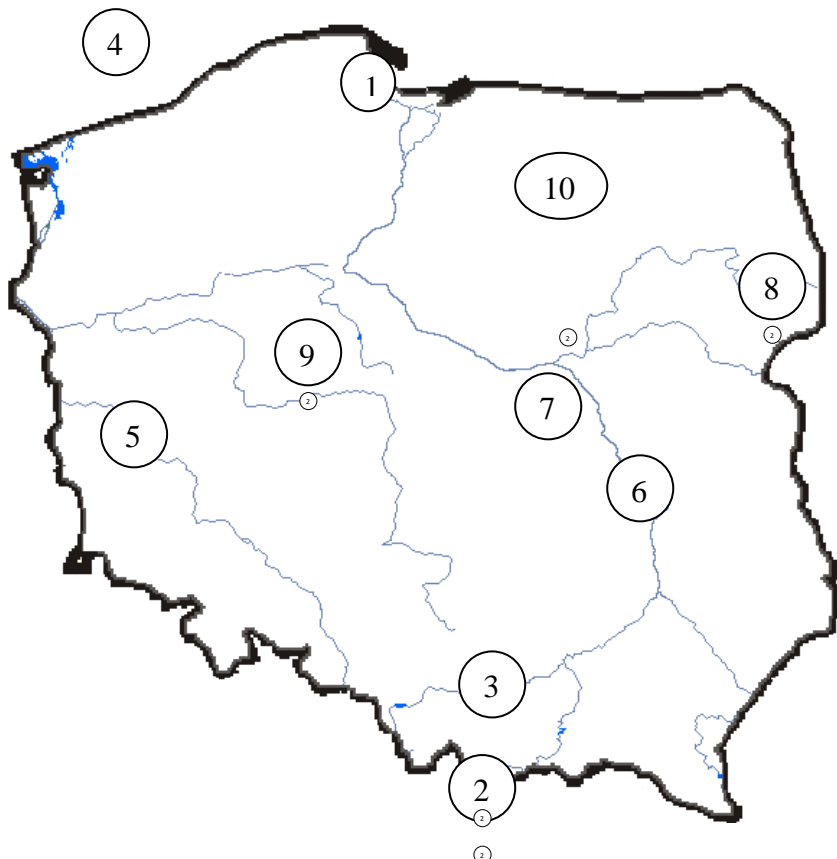




MIĘDZYSZKOLNY KONKURS
WIEDZY ZINTEGROWANEJ „JUŻ TO WIEM”
DLA KLAS TRZECICH
2015

JUŻ TO WIEM

13. Przyjrzyj się dokładnie konturowej mapie Polski, a następnie wpisz do tabelki liczby odpowiadające zaznaczonym miejscom na mapie.



Pojezierze Mazurskie	
Gdańsk	
Białowiecki Park Narodowy	
Kampinoski Park Narodowy	
Wisła	
Tatry	
Gniezno	
Odra	
Kraków	
Morze Bałtyckie	



14. Zaznacz krzyżykiem poprawne odpowiedzi.

- Na wycieczce uczniowie pierwszego dnia przeszli 24 km, drugiego o 6 km mniej niż pierwszego, a trzeciego o 9 km więcej niż drugiego. Ile kilometrów przeszli trzeciego dnia?
A. 30km B. 27km C. 24km D. 69
- Jeżeli pewną liczbę pomnożę przez 5 i dodam jeszcze 400, to otrzymam 2900. Jaka to liczba?
A. 300 B. 450 C. 5000 D. 500
- Adam zauważył, że jeżeli kupi 5 porcji lodów, to zostanie mu 19 zł, a jeżeli kupi 8 takich porcji, to zostanie mu 10zł. Ile pieniędzy ma Adam?
A. 50 B. 34 C. 21 D. 29
- O godzinie 8 rano temperatura powietrza wynosiła 9°C. Co godzinę wzrastała o pół stopnia. Jaka była temperatura o godzinie 16.00?
A. 12° C B. 13°C C. 14°C D 15°C
- Czekoladki układane są w pudełku w 3 warstwach po 20 czekoladek. Ile pudełek potrzeba do zapakowania 300 czekoladek?
A. 4 B. 5 C. 6 D. 7
- Ile centymetrów ma długość prostokąta, jeżeli jego obwód ma 56 cm, a jego szerokość 17cm?
A. 22cm B. 13cm C. 11cm D. 39cm
- Aneta, Klara, Michał i Darek urządzili zawody, w których wygrywa ta osoba, która zje najwięcej jabłek. Darek zjadł więcej jabłek niż Klara, a Michał zjadł mniej jabłek niż Aneta. Ponadto wiadomo, że Darek nie wygrał zawodów. Kto zjadł najwięcej jabłek?
A. Aneta B. Klara C. nie wiadomo D. Michał
- O ile liczba 100 jest mniejsza od liczby 1119?
A. o 1109 B. 1110 C. 1019 D. 119

15. Rozwiąż zadanie i napisz odpowiedź.

Tata zbierał grzyby przez 2 godziny. W ciągu pierwszej godziny zebrał 39 grzybów. Ile grzybów zebrał w ciągu drugiej godziny, jeśli wiadomo, że mama wszystkie grzyby zebrane przez tatę oczyściła w ciągu 40 minut, oczyszczając po 7 grzybów w ciągu każdych 5 minut?

Odp:



MIĘDZYSZKOLNY KONKURS
WIEDZY ZINTEGROWANEJ „JUŻ TO WIEM”
DLA KLAS TRZECICH
2015

JUŻ TO WIEM

16. Rozwiąż zadanie i napisz odpowiedź:

Uczniowie podczas wycieczki w ciągu dwóch dni przejechali autokarem 56 km. Drugiego dnia przejechali trasę sześć razy dłuższą niż w pierwszym dniu. Ile kilometrów miała trasa przebyta przez uczniów drugiego dnia?

Odp:.....

17. Rozwiąż zadanie i napisz odpowiedź:

Egzamin na kartę rowerową odbywał się w dwóch turach po 35 minut każda. Między nimi była przerwa, która trwała 25 minut. O której godzinie rozpoczął się egzamin, jeżeli zakończył się o godz. 12.10?

Odp.



MIEDZYSZKOLNY KONKURS
WIEDZY ZINTEGROWANEJ „JUŻ TO WIEM”
DLA KLAS TRZECICH
2015

JUŻ TO WIEM

18. Przeczytaj uważnie informacje i otocz pętlą prawidłową odpowiedź.

Czerwona , pomarańczowa to barwy ciepłe	Prawda	Fałsz
Zmieszanie barwy niebieskiej i żółtej daje barwę fioletową.	Prawda	Fałsz
Collage to technika polegająca na naklejaniu na płótnie lub papierze ścinków tkanin, kawałków gazet, tektury, materiału.	Prawda	Fałsz
Pejzaż to malarstwo przedstawiające portrety.	Prawda	Fałsz

19. Rozwiąż krzyżówkę. Litery w ponumerowanych kratkach utworzą rozwiązanie.
Napisz je w okienkach pod krzyżówką.

- a. Instrument dęty blaszany.
- b. Wysoki głos kobiecy.
- c. Trzyma w ręku batutę..
- d. Najwyższy głos męski.
- e. Muzyczny instrument strunowy z grupy smyczkowych.
- f. Cicho w muzyce (dynamika).
- g. Autor utworu muzycznego.

a			5						
b	4								
c	6								
d		7			1				
e				3					
f					2				
g	8								

1	2	3	4	5	6	7	8



**MIEDZYSZKOLNY KONKURS
WIEDZY ZINTEGROWANEJ „JUŻ TO WIEM”
DLA KLAS TRZECICH
2015**

JUŻ TO WIEM

BRUDNOPIS

Szkoła Podstawowa nr 84
03-611 Warszawa
ul. Radzywińska 227